





Exercices bonus sur les pourcentages



Un jean qui coûtait au départ 45€ est en promotion à -40 % .
Calculer son nouveau prix.

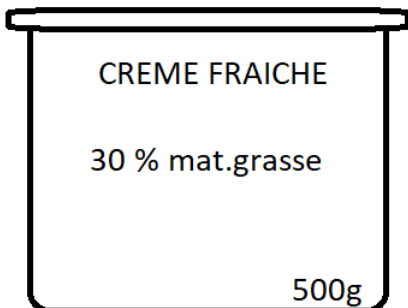


Une console coûte normalement 280€.
Elle est ici en réduction à -20%.
Quel est son nouveau prix ?



Un vélo coûte 300 €.
Une super promo arrive et annonce une
réduction de 28%.

Combien va-t-il coûter?

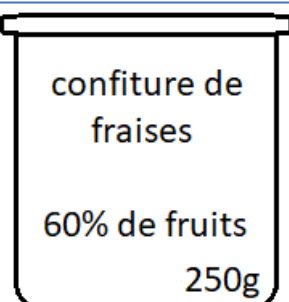


Quel est la masse de matière grasse contenue dans ce pot ?



Un concessionnaire vendait une voiture 8000€. Elle bénéficie d'une
réduction et son nouveau prix est désormais de 6800€.

Quel est son pourcentage de réduction ?



Dans un pot de 250g de confiture de fraises, il y a 60% de fruits.
Calculer la masse de fruits contenue dans ce pot de confiture.